


1. Complète comme l'exemple.



$4 + 4 = 8$   
2 lignes de 4 carreaux :  
 $2 \times 4 = 8$



..... + ..... + ..... = .....

..... lignes de ..... carreaux :  
.....  $\times$  ..... = .....



..... + ..... + ..... + ..... = .....


..... lignes de ..... carreaux :  
.....  $\times$  ..... = .....

2. Complète.




nombre de points :

.....  $\times$  ..... = .....



nombre de carreaux :

.....  $\times$  ..... = .....



nombre de carreaux de  
chocolat :

.....  $\times$  ..... = .....



nombre de fenêtres :

.....  $\times$  ..... = .....